

## Тестові завдання для підготовки до тематичного оцінювання за розділом І.

- 1. Особливість процесу повоєнної відбудови народного господарства України (1945 – початок 1950-х років) визначається**  
А спрямуванням основної частини капіталовкладень в соціальну сферу.  
Б використанням фінансової та технічної допомоги за «планом Маршалла».  
В першочерговою відбудовою важкої промисловості та енергетики.  
Г пріоритетним розвитком сільського господарства як джерела фінансування промисловості.
- 2. У якому році уклали Люблінську угоду між УРСР і ПНР?**  
А 1944 р.  
Б 1946 р.  
В 1945 р.  
Г 1947 р.
- 3. Хто очолював урядову делегацію УРСР на Сан-Франциській (1945 р.), Паризькій (1946–1947 рр.) та Дунайській (1947 р.) міжнародних конференціях?**  
А Д. Мануїльський  
Б Л. Каганович  
В М. Підгорний  
Г М. Хрущов
- 4. Кампанія боротьби з «космополітизмом», що мала місце у повоєнні роки, мала яскраво виражений**  
А антиукраїнський характер.  
Б антисемітський характер.  
В антиамериканський характер.  
Г антиросійський характер.
- 5. Суть політики радянзації західних областей України в період повоєнної відбудови (1945 – початок 1950-х років) полягала в**  
А переселенні українців західних областей до центральних і східних областей УРСР.  
Б уніфікації всіх сфер життя відповідно до норм, утверджених у СРСР.  
В репресіях проти священників Української греко-католицької церкви.  
Г придушенні збройної боротьби підпілля ОУН і загонів УПА.
- 6. Фотографія є свідченням процесу**  
А депортації.  
Б репатріації.  
В пацифікації.  
Г коренізації.



7. Хто став митрополитом Української греко-католицької церкви після смерті А. Шептицького?  
 А Г. Костельник  
 Б І. Огієнко  
 В В. Липківський  
 Г Й. Сліпий
8. «...До Центрального табору праці в Явожно, розташованого на території філіалу колишнього концентраційного табору в Освенцимі, ...потрапляли особи, «підозрювані у зв'язках з УПА» ...основну частину в'язнів становили українські селяни, які потрапили до табору через так звану «колективну відповідальність». За цей період через концентраційний табір й пройшло 3 936 українських в'язнів, з них 823 жінки та кілька дітей. Більш ніж 160 в'язнів внаслідок тортур і самогубств загинули».  
 Про яку операцію йдеться в уривку джерела?  
 А «Вісла»  
 Б «Велика блокада»  
 В «Захід»  
 Г «Хвиля»
9. Згадуючи про шалений тиск Кремля на початку хлібозаготівель 1946 р., М. Хрущов (на той час перший секретар ЦК КП(б)У) у своїх мемуарах зазначав: *«План встановлювався вольовим методом, хоча в органах преси і офіційних документах він «обґрунтовувався» науковими даними... При цьому виходили головним чином не з того, що було вирощено, а з того, скільки можна одержати в принципі, вибити в народі в засіки держави. І ось почалося це вибивання. Я бачив, що рік загрожує катастрофою. Чим це скінчиться, важко було передбачити...»*. Чим це скінчилося?  
 А могутнім селянським антирадянським виступом  
 Б повстанням у таборах ГУЛАГу  
 В масовим голодом  
 Г «Великим терором»
10. Скільки тривала операція «Захід»?  
 А один день  
 Б тиждень  
 В місяць  
 Г рік
11. Який з цих документів ілюструє «лисенківщину»?  
 А *«Коли ми показуємо визначного діяча минулого, святкуємо ювілей, пов'язані з його іменем, завжди необхідно наголошувати на зв'язку минулого з дійсною сністю, вказувати на роль партії і тов. Сталіна...»*  
 Б *«Редакція «Вітчизни» не поставила в центрі своєї уваги висвітлення в журналі провідних тем сучасності і насамперед – перемоги радянського народу у Великій Вітчизняній війні й героїчної боротьби радянських людей за виконання сталінської п'ятирічки...»*

**В** «На Україні завдання наукової розробки історії українського народу покладено на Інститут історії України Академії наук УРСР. Проте... Інститут не розробив і не видав науково витриманої, марксистсько-ленінської історії України...»

**Г** «Особи, які відстоюють принципи формальної генетики, неспроможні зрозуміти геніальної вказівки Леніна про те, що «пізнання людини не Є... пряма лінія, а крива лінія, що безмежно наближується до ряду кіл, до спіралі...»

**12. Ілюстрацією якої події міг слугувати зображений малюнок з агітаційної листівки?**

**А** операція «Захід»

**Б** голод 1946–1947 рр.

**В** утворення Закарпатської області

**Г** вибори до рад у 1946–1947 рр.



**13. Установіть послідовність подій**

**А** арешт командувача УПА В. Кука

**Б** проведення операції «Захід»

**В** «Велика блокада»

**Г** загибель Р. Шухевича

**14. Установіть відповідність між історичними персонами та їхніми характеристиками.**

**1.** О. Палладін

**А** художниця, майстер народного декоративного мистецтва

**2.** В. Філатов

**Б** лікар-офтальмолог

**3.** К. Білокур

**В** композитор

**4.** Н. Ужвій

**Г** керівник Академії наук УРСР

**Д** акторка театру

**15. Які з указаних подій відбулися в 1947 р.?**

**1** грошова реформа і скасування карткової системи

**2** операція «Вісла»

**3** Львівський собор

**4** початок четвертої п'ятирічки

**5** загибель командувача УПА Р. Шухевича

**6** утворення Закарпатської області

**7** перші повоєнні вибори до Верховної Ради УРСР

## Тестові завдання для підготовки до тематичного оцінювання за розділом 2.

1. У добу «відлиги» в суспільному лексиконі вперше з'являється поняття
  - А «розвинений соціалізм».
  - Б «партійна номенклатура».
  - В «політична реабілітація».
  - Г «безрідний космополітизм».
2. Для приховування провалів виконання п'ятирічного плану виробництва наприкінці 1950-х роках було
  - А ухвалено Семирічний план.
  - Б запроваджено систему раднаргоспів.
  - В ліквідовано систему МТС.
  - Г розпочато освоєння цілинних земель.
3. У якому місті УРСР у 1963 р. для придушення страйків і заворушень придушення запровадили воєнний стан?
  - А Кривий Ріг
  - В Харків
  - Б Донецьк
  - Г Черкаси
4. На якому з'їзді КПРС М. Хрущов виступив із доповіддю «Про культ особи і його наслідки»?
  - А XX з'їзд
  - Б XXI з'їзд
  - В XXII з'їзд
  - Г XXIII з'їзд.
5. Які наслідки для соціально-економічного розвитку УРСР в 1954–1964 рр. мала програма, зображена на плакаті?
  - А вирішено проблему нестачі кормів для тваринництва, збільшення поголів'я худоби
  - Б нестачу зернових перекрыла врожайність кукурудзи, вирішення продовольчої проблеми
  - В випередження США у виробництві молока, м'яса і масла
  - Г скорочення посівів зернових культур, продовольча криза, початок закупок зерна за кордоном



*Напис на плакаті:  
«Кукурудзі — повний хід»*

**6. Хто є автором цитованого документа:**

*«Ми боремося за самостійну Україну...*

*Методи досягання цієї мети – мирні, конституційні... Завдання... полягає в тому, щоб домогтися: встановлення режиму законності; відновлення й дотримання демократичних норм Конституції; скасування посад партійної номенклатури та відновлення принципу верховенства в суді безпосередньо народом; скасування антиконституційного закону, за яким комуніста не можна судити, доки райком партії не виключить його з КПРС...»?*

- А** О. Гончар
- Б** О. Антонов
- В** Л. Лук'яненко
- Г** І. Миколайчук


**7. Як вплинула освітня реформа 1959 р. на викладання української мови?**

- А** у російських школах УРСР припинялось викладання української мови
- Б** збільшилася кількість годин на викладання української мови
- В** було зафіксоване положення про факультативність вивчення української мови
- Г** в українських школах УРСР заборонялось викладання українською мовою

**8. Яка організація започаткувала дисидентський рух в Україні?**

- А** Організація українських націоналістів
- Б** Українська повстанська армія
- В** Українська робітничо-селянська спілка
- Г** Український національний фронт

**9. Хто із зображених на фото діячів українського дисидентського руху очолював Українську робітничо-селянську спілку (УРСС)?**



**А**



**Б**



**В**



**Г**

**10. Коли в УРСР запровадили обов'язкову восьмирічну освіту?**

- А** 1956 р.
- Б** 1957 р.
- В** 1958 р.
- Г** 1959 р.

**11. Хто з 1962 р. очолив Академію наук УРСР?**

- А О. Палладін
- Б Б. Патон
- В В. Глушков
- Г М. Амосов

**12. Хто із «шістдесятників» був автором збірок поезій «Зимові дерева», «Веселий цвинтар» і «Дороги болю»?**

- А В. Симоненко
- Б Л. Костенко
- В Б. Олійник
- Г В. Стус.

**13. Установіть відповідність між історичними діячами та їхніми характеристиками.**

- |                  |   |
|------------------|---|
| 1. С. Стефаник   | А дисидент, засновник УРСС                              |
| 2. Г. Косинка    | Б український письменник, реабілітований 1956 р.        |
| 3. І. Кандиба    | В поет, автор збірки «Тиша і грім»                      |
| 4. С. Параджанов | Г кінорежисер, який створив фільм «Українська рапсодія» |
|                  | Д заступник голови Ради Міністрів УРСР                  |

**14. Установіть послідовність подій.**

- А створення українськими інженерами і вченими цифрової машини «Київ»
- Б початок видання у республіці «Українського історичного журналу»
- В у Львові споруджено пам'ятник І. Франкові
- Г футбольний клуб «Динамо» (Київ) уперше завоював кубок СРСР

**15. Які твердження відповідають політиці зображеного на фото діяча?**

- 1 надання колгоспникам права на пенсію
- 2 неодноразове зниження цін на продукти харчування
- 3 проведення масштабного індустріального житлового будівництва
- 4 поширення орендного підряду в селі
- 5 створення раднаргоспів
- 6 підтримка нових течій у мистецтві
- 7 дозвіл на підприємницьку діяльність




## **Тестові завдання для підготовки до тематичного оцінювання за розділом 3.**

1. **Вкажіть період перебування на посаді першого секретаря ЦК КПУ П. Шелеста.**  

А 1959–1965 рр.	Б 1961–1970 рр.
В 1963–1972 рр.	Г 1965–1975 рр.
  
2. **Спроби економічних реформ у другій половині 1960-х рр. передбачали**  
 А ліквідацію монополії держави у сфері зовнішніх торговельних зв'язків.  
 Б впровадження семирічного плану розвитку народного господарства.  
 В дозвіл на індивідуальну підприємницьку діяльність.  
 Г розширення господарської самостійності підприємств.
  
3. **Якою була головна мета схвалення навесні 1982 р. Продовольчої програми?**  
 А поступово ліквідувати колгоспно-радгоспну систему  
 Б запровадити у сільському господарстві обмежені ринкові відносини;  
 В забезпечити суттєве зростання виробництва сільськогосподарської продукції;  
 Г перейти від екстенсивного до інтенсивного шляху розвитку сільського господарства.
  
4. **Якою була кількість населення УРСР за переписом 1989 р.?**  

А 42,3 млн осіб	Б 53 млн осіб
В 51,7 млн осіб	Г 54,5 млн осіб.
  
5. **Яку особливість економічного розвитку УРСР в 1970-ті — на початку 1980-х рр. підтверджено даними, наведеними в уривку документа:**  
*«У республіці, на яку припадало 2,6 % території СРСР, було побудовано майже 40 % атомних енергоблоків, продукувалося близько 40 % усієї радянської сталі, 34 % вугілля, 51 % чавуну. ... частка промисловості, що працювала на споживчий ринок, становила 29 %, тоді як у розвинених країнах цей показник сягав 50–60 % і більше»?*  
 А деформованість структури економіки  
 Б посилення економічної самостійності  
 В зростання конкурентоспроможності продукції  
 Г зниження матеріало- та енергомісткості виробництва
  
6. **Яке явище радянської дійсності засуджує карикатура?**  
 А бюрократизацію  
 Б корупцію  
 В дефіцит  
 Г люстрація




7. Хто з дисидентів на прес-конференції для західних ЗМІ після позбавлення його радянського громадянства заявив таке: «Я ніколи не був російським генералом. Я був радянським генералом і приїхав сюди представляти Українську Гельсінську спілку»?  
 А В. Стус                      Б П. Григоренко                      В М. Руденко                      Г В. Чорновіл
8. Більш ніж 3 тис. вихідців з України загинули у війні, яку в 1979–1988 рр. СРСР вів в  
 А Афганістані.                      Б Анголі.                      В Ефіопії.                      Г В'єтнамі.
9. Хто очолював Українську громадську групу сприяння виконанню Гельсінських угод?  
 А І. Кандиба                      Б М. Руденко                      В Л. Лук'яненко                      Г П. Григоренко
10. Яке явище радянської дійсності відображено на карикатурі?

- А дефіцит  
 Б корупція  
 В бюрократизація  
 Г люстрація



А. Юн. Громадяни, не стойте, импортне взуття закінчується...

11. Із якою подією пов'язані діячі, зображені на фото?



- А створенням Української Гельсінської спілки  
 Б заснуванням Української робітничо-селянської спілки  
 В повстанням політичних в'язнів у Норильському концтаборі  
 Г акцією протесту в кінотеатрі «Україна» проти арештів дисидентів



**12. Який керівник УРСР пишався такими здобутками?**

*«...інтелігенцію прагнув підтримувати, особливо молодь. А те, що «пробили», «довели» і встановили Шевченківську премію як найвищу нагороду республіки, котра присуджується тільки раз у житті, те, що прийняли спеціальну постанову Ради Міністрів про створення державного заповідника на Хортиці, цим пишався й пишався сьогодні. Так само, як і тим, що брав посильну участь у захисті чудових кінострічок Юрія Іллєнка, у створенні Музею-заповідника української народної архітектури та побуту в селі Пироговому».*

- А М. Підгорний
- Б П. Шелест
- В В. Щербицький
- Г Л. Кравчук

**13. Установіть відповідність між історичними діячами та їхніми характеристиками.**

- |                  |  |
|------------------|--|
| 1. В. Маняк      | А композитор   |
| 2. Р. Андрияшик  | Б письменник, автор-упорядник Народної книги-меморіалу «33-й: голод» |
| 3. П. Майборода  | В поет, автор поеми «Хрест»  |
| 4. І. Миколайчук | Г письменник, автор роману «Полтва»                                  |
|                  | Д кінорежисер, який створив фільм «Білий птах з чорною ознакою»      |

**14. Установіть хронологічну послідовність подій.**

- А Заснування Української громадської групи сприяння виконанню гельсінських угод
- Б видання у Канаді статті М. Брайчевського «Приєднання чи возз'єднання?»
- В початок виходу «самвидавського» журналу «Український вісник»
- Г Й. Тереля створив групу із захисту прав вірян і церкви в Україні.

**15. Укажіть риси, притаманні економічному розвитку УРСР в період «застою».**

- 1. бюрократизація управління, напування командно-адміністративних методів управління, переважання важкої промисловості.
- 2. розквіт колгоспно-радгоспної системи, її вдосконалення, впровадження нових агротехнологій і культур, зокрема кукурудзи
- 3. розвиток індивідуального підприємництва у сферах торгівлі, надання послуг та сільському господарстві
- 4. пріоритетний розвиток наукоємного виробництва; широке впровадження західних технологій й досягнень науково-технічної революції
- 5. криза колгоспно-радгоспної системи, низький рівень агрокультури та землекористування, запровадження «Продовольчої програми»
- 6. дефіцит товарів масового споживання, загострення продовольчої та житлової проблем
- 7. децентралізація системи управління, пріоритетний розвиток місцевих дрібних та середніх підприємств з приватною власністю на засоби виробництва.

## Тестові завдання для підготовки до тематичного оцінювання за розділом 4.

1. «Треба було такий документ скласти, щоб він не викликав жодних дискусій, щоб за нього проголосували «змаху», — про який документ говорив Левко Лук'яненко?

А Декларацію про суверенітет УРСР  
 Б Акт проголошення незалежності України  
 В Конституцію України  
 Г Закон про мову

2. Прочитайте фрагмент історичного документа та виконайте завдання.

*«... Багато зараз незвичного в нашій країні: скажімо, багатомандатні округи з виборів до Рад; спільні з іноземними фірмами підприємства; самофінансування заводів і фабрик, радгоспів, колгоспів; зняття обмежень з підсобних господарств, ... розширення кооперативної діяльності; заохочення індивідуальної трудової діяльності у дрібному виробництві і торгівлі ...».*

- Названі у джерелі зміни названі «незвичними» тому, що

А вони йшли у розріз з комуністичною теорією.  
 Б вкрай негативно сприймалися у суспільстві.  
 В створювали ілюзію економічного процвітання.  
 Г започатковувалися як тимчасові.

3. Політика гласності у роки перебудови сприяла

А запровадженню продажу товарів за картками споживача з купонами.  
 Б проведенню перших альтернативних виборів до Верховної Ради УРСР.  
 В зростанню соціальної та національної активності українського суспільства.  
 Г загостренню соціально-економічної кризи, стрімкому зростанню цін.

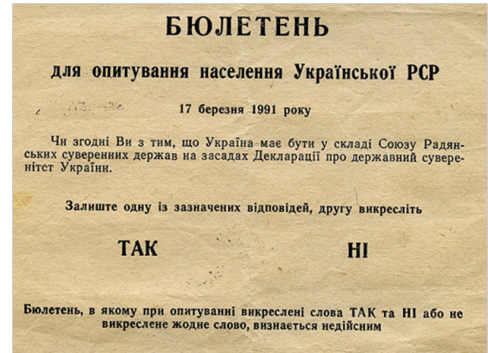
4. Який зовнішній чинник був вирішальним у здобутті Україною незалежності?

А поразка СРСР у «холодній війні»  
 Б інтеграційні процеси в Європі  
 В розпад Югославії та Чехословаччини  
 Г започаткування процесу ракетно-ядерного роззброєння

5. Український дисидент, громадський і державний діяч. У 1958 р. заснував Українську робітничо-селянську спілку. Заарештований в 1961 р. за антирадянську діяльність і до 1976 р. перебував у мордовських таборах. У 1990–1992 рр. — голова Української республіканської партії, автор тексту Акта проголошення незалежності України — це

А Л. Лук'яненко  
 Б В. Чорновіл  
 В Є. Сверстюк  
 Г С. Хмара

6. У якому році православна церква святкувала тисячоліття хрещення Русі, що поклало початок релігійному відродженню в УРСР та СРСР?
- А 1980 р.
  - Б 1985 р.
  - В 1988 р.
  - Г 1991 р.
7. Проаналізуйте документ. З якою метою проводилося опитування населення УРСР?
- А нівелювати результати загальносоюзного референдуму.
  - Б підтвердити проголошення незалежності України.
  - В переконати населення у перевагах перебування у складі СРСР.
  - Г створити передумови для згортання перебудови в СРСР.
8. Яке питання було винесене на Всеукраїнський референдум 1 грудня 1991 р.?
- А «Чи вважаєте Ви необхідним збереження СРСР як оновленої федерації республік?»
  - Б «Чи підтверджуєте Ви Акт проголошення незалежності України?»
  - В «Чи погоджуєтесь Ви із заборною КППС?»
  - Г «Чи підтверджуєте Ви Угоду про створення СНД?»
9. Про яке «завдання уряду» звітують робітники на тлі Чорнобильської АЕС?
- А будівництво саркофагу над четвертим блоком
  - Б введення в дію електростанції
  - В закриття електростанції
  - Г ліквідації «зони відчуження навколо електростанції»
10. Карикатура натякає, що політика перебудови викликала опір з боку
- А творчої інтелігенції.
  - Б номенклатури.
  - В науковців.
  - Г вчителів.



**11. У якому році відбулись події, описані в уривку джерела:**

*«Прегарний літнім днем ми почули шум під вікном нашої редакції... Виглянули — а там збираються шахтарі. Прямо із забою... Так стихійно розпочався мітинг протесту з економічними вимогами. ...народ освистав і не дав говорити... першого секретаря райкому партії Лаврову. ...все роздратування партією, що накопичилися за десятиліття, виплеснулося на поверхню життя шахти. ... почався страйк, і наш рудник був першим серед всіх шахт Донецька?»*

- А 1985 р.
- Б 1987 р.
- В 1989 р.
- Г 1991 р.

**12. Ігор Юхновський пригадував про події 1991 р.: «Референдум був найважливішим з усього. Щоправда, проти нього виступали навіть деякі члени Народної Ради. Але я наполягав: референдум є обов'язковим». Яке питання мав розглянути запропонований референдум?**

- А запровадження посади Президента України
- Б підтвердження Акта проголошення незалежності України
- В всенародне ухвалення Конституції України
- Г визнання територіальної цілісності та неподільності України

**13. Установіть відповідність між подіями і наслідками.**

- |   |  |
|---|--|
| 1 перші альтернативні вибори до Верховної Ради УРСР         | А ухвалення Закону «Про економічну самостійність»  |
| 2 «Революція на граніті»                                    | Б усунення з посади голови уряду УРСР В. Масола    |
| 3 проголошення Декларації про державний суверенітет України | В утворення парламентської опозиції — Народна Рада |
| 4 проголошення політики «гласності»                         | Г відновлення правди про історичне минуле України  |
|   | Д розпуск Комуністичної партії України             |

**14. Установіть послідовність появи понять в історії УРСР.**

- А «розвинений соціалізм»
- Б «розвінчання культу особи»
- В «ждановщина»
- Г «альтернативні вибори»

**15. Що з зазначеного є свідченням зростання активності українського суспільства в 1988–1989 рр.**

- 1 утворення Народного руху України за перебудову
- 2 проведення загальноукраїнського страйку шахтарів
- 3 проведення акцій «живий ланцюг» на відзначення річниці Акта Злуки УНР і ЗУНР
- 4 відновлення діяльності Української Гельсінської спілки
- 5 утворення Української робітничо-селянської спілки
- 6 видання «самвидавського» журналу «Український вісник»
- 7 проведення перших альтернативних виборів до Верховної Ради УРСР

## Тестові завдання для підготовки до тематичного оцінювання за розділом 5.

1. У якому році почалося піднесення економіки сучасної України після майже десятилітньої економічної кризи?

- А 1998 р.
- Б 2000 р.
- В 2001 р.
- Г 2004 р.

2. З якою метою в Україні в 1996 р. була проведена грошова реформа?

- А відновити довіру до національної грошової одиниці
- Б подолати гіперінфляцію
- В виконати умову міжнародних фінансових організацій
- Г урівняти доходи громадян

3. Що зумовило підписання цитованого документа:

*«Російська Федерація, Сполучене Королівство Великої Британії і Північної Ірландії, Сполучені Штати Америки підтвердити Україні їх зобов'язання згідно з принципами Заключного акту Наради з безпеки і співробітництва в Європі (НБСЕ) поважати незалежність і суверенітет та існуючі кордони України...»?*

- А вступ до Ради Європи
- Б відмова України від статусу ядерної держави
- В входження України до Світової організації торгівлі
- Г проведення всеукраїнського референдуму на підтвердження акту проголошення незалежності України

4. Якій події дається оцінка в уривку джерела:

*«Кравчук привіз нам з Біловезької Пуці, якщо вдуматися, відпускну грамоту від Росії. Документ, підписаний ним... скасував, у широкому історичному сенсі, все, що колист привязувало Україну до Росії. Ці акти хоч і давно належали минулому, але зберігали для когось символічне значення»?*

- А утворенню Співдружності Незалежних Держав
- Б підписанню Будапештського меморандуму
- В вступу до Організації Об'єднаних Націй
- Г укладенню «Великого» українсько-російського договору

5. З якою країною Україна мала зовнішньополітичний конфлікт через територіальні суперечки щодо острова Зміїний?

- А Румунією
- Б Туреччиною
- В Росією
- Г Болгарією

6. Хто з зображених історичних постатей був першим Президентом України?



А



Б



В



Г

7. Яка риса соціально-економічного розвитку притаманна Україні в роки незалежності?

- А диференціація суспільства за майнової ознакою
- Б стрімке зростання дефіциту споживчих товарів
- В перевищення економічних показників часів Української РСР
- Г інтеграція української економіки з економікою Європейського Союзу

8. Що стало наслідком для Комуністичної партії України (КПУ) її підтримка дій ГКЧП у серпні 1991 р.?

- А перейменування партії.
- Б тимчасова заборона діяльності.
- В арешт і ув'язнення її лідерів.
- Г проведення суду над комунізмом.

9. За часів перебування на посаді Президента України, якого діяча відбувалися події, описані в уривку документа?

*«Бурхливими були часи...знову шукали винних у важкому економічному стані: і Кабмін не такий, і Рада не така, і депутати — всіх розігнати! Студенти на граніті вимагали реальної незалежності і реформ, а шахтарі проклинали тих, хто проголосив незалежність, і вимагали інших реформ. І, щоб вгамувати пристрасті, було ухвалено рішення про дострокове припинення повноважень парламенту і Президента України і проведення дострокових виборів ...»*

- А Леонід Кравчук
- Б Леонід Кучма
- В Віктор Ющенко
- Г Віктор Янукович

10. Результатом зовнішньополітичного курсу якого Президента України стало укладення «Договору про дружбу, співробітництво і партнерство між Україною і Російською Федерацією»?

- А Л. Кравчука
- Б Л. Кучми
- В В. Януковича
- Г П. Порошенка

- 11. Членом яких міжнародні організації стала Україна після здобуття нею незалежності 1991 р.?**  
А ООН, СНД, Рада Європи, СОТ;  
Б СНД, Рада Європи, ОБСЄ, СОТ;  
В НАТО, ЄС, ОБСЄ, РЕВ;  
Г ЄС, Рада Європи, ОБСЄ, ГУАМ.
- 12. З якою країною постачальником газу виникали в Україні періодичні «газові війни»?**  
А Росією  
Б Азербайджаном  
В Туркменістаном  
Г Катаром
- 13. Установіть відповідність між датами і подіями.**
- |                       |   |
|-----------------------|---|
| 1 16 липня 1990 р.    | А урочиста церемонія вступу України до Ради Європи                |
| 2 24 серпня 1991 р.   | Б прийняття Конституції України                                   |
| 3 9 листопада 1995 р. | В схвалення Декларації про державний суверенітет України          |
| 4 28 червня 1996 р.   | Г прийняття Акта проголошення незалежності України                |
|                       | Д проведення перших альтернативних виборів до Верховної Ради УРСР |
- 14. Установіть послідовність подій за роки незалежності.**  
А перші вибори Президента України  
Б перші вибори до Верховної Ради України  
В ухвалення Конституції України  
Г ухвалення державної символіки України
- 15. Які завдання державотворення в Україні було вирішено на початку 1990-х рр.?**  
1 побудовано соціально орієнтовану ринкову економіку  
2 регламентовано режим і порядок охорони державних кордонів  
3 інтегровано українську економіку в європейські та світові економічні структури  
4 створено власні Збройні сили, організовано органи безпеки та правопорядку  
5 сформовано інститут громадянства, національну символіку визнано державною  
6 прийнято нову Конституцію незалежної України  
7 подолано корупцію у вищих ешелонах влади

## Тестові завдання для підготовки до тематичного оцінювання за розділом 6.

1. **Перехід економіки України на ринкові рейки призвів до гіперінфляції, яка була приборкана у період президентства**

А Леоніда Кравчука.  
 Б Леоніда Кучми.  
 В Віктора Ющенка.  
 Г Віктора Януковича.

2. **Про яке явище йдеться в цитованому документі?**

*«Найбільшим негативом 1990-х років було «вимивання» активної, продуктивної частини населення — людей молодого та середнього віку — за межі держави. За офіційними даними, Україна втратила близько 3,5 мільйона осіб, третина з яких — кваліфіковані фахівці».*

А соціальну диференціацію  
 Б дефіцит робочої сили  
 В трудову міграцію  
 Г депопуляцію

3. **Чим були зумовлені дострокові вибори Президента України у травні 2014 р.?**

А втечею з країни попереднього президента  
 Б достроковими виборами Верховної Ради України  
 В зміною Конституції України  
 Г вступом до Світової організації торгівлі

4. **Який Президент України був усунутий від влади у результаті народних протестів?**



А



Б



В



Г

5. **Участь України у програмі «Партнерство заради миру» свідчило про співробітництво з**

А ООН.  
 Б НАТО.  
 В ОБСЄ.  
 Г ЄС.



6. **Яка трагедія України у ХХ ст. була визнана на законодавчому рівні у 2006 р. геноцидом українського народу?**  
А Голодомор 1932–1933 р.  
Б нацистська окупація 1941–1944 рр.  
В Великий терор 1938–1939 рр.  
Г масова депортація у 1939–1941 рр.
7. **На чому, крім Конституції і Акта проголошення незалежності України, урочисто присягають президенти України?**  
А «Кобзарі»  
Б «Книзі буття українського народу»  
В Пересопницькому Євангелії  
Г Острозькій Біблії
8. **2014 рік — це рік, коли Україна**  
А підписала Угоду про асоціацію з Європейським Союзом (ЄС).  
Б стала членом Ради Європи (РЄ).  
В приєдналася до програми НАТО «Партнерство заради миру».  
Г вступила до Світової організації торгівлі (СОТ).
9. **Конституція Української РСР, ухвалена 20 квітня 1978 р., втратила свою чинність**  
А 1985 р.  
Б 1991 р.  
В 1996 р.  
Г 2004 р.
10. **На створення плаката художника надихнула оборона українськими військами під час АТО**  
А Донецького аеропорту.  
Б Маріуполя.  
В Дебальцевського плацдарму.  
Г Луганського аеропорту.
11. **Що зумовило підписання цитованого документа:**  
*«Російська Федерація, Сполучене Королівство Великої Британії і Північної Ірландії, Сполучені Штати Америки підтвердити Україні їх зобов'язання згідно з принципами Заключного акту Наради з безпеки і співробітництва в Європі (НБСЕ) поважати незалежність і суверенітет та існуючі кордони України...»?*  
А вступ до Ради Європи  
Б відмова України від статусу ядерної держави  
В входження України до Світової організації торгівлі  
Г проведення всеукраїнського референдуму на підтвердження акту проголошення незалежності України



**12. Характеризуючи події, відображені на карикатурі, доцільно використовувати поняття**

- А «анексія».
- Б «депортація».
- В «мобілізація».
- Г «лібералізація».



**13. Установіть відповідність між датами і подіями.**

- |                       |   |
|-----------------------|---|
| 1 16 липня 1990 р.    | А урочиста церемонія вступу України до Ради Європи                |
| 2 24 серпня 1991 р.   | Б прийняття Конституції України                                   |
| 3 9 листопада 1995 р. | В схвалення Декларації про державний суверенітет України          |
| 4 28 червня 1996 р.   | Г прийняття Акта проголошення незалежності України                |
|                       | Д проведення перших альтернативних виборів до Верховної Ради УРСР |

**14. Установіть послідовність подій за роки незалежності.**

- А перші вибори Президента України
- Б перші вибори до Верховної Ради України
- В ухвалення Конституції України
- Г ухвалення державної символіки України

**15. Укажіть факти біографії громадсько-політичного діяча, зображеного на фото.**

- 1 брав участь у роботі Української робітничо-селянської спілки
- 2 обіймав посаду голови Народного Руху України
- 3 один із засновників Української Гельсінської спілки
- 4 автор книги «Україна наша радянська»
- 5 засновник самвидавського часопису «Український вісник»
- 6 вислання за кордон і позбавлення радянського громадянства
- 7 обраний Президентом України у 1991 р.

